

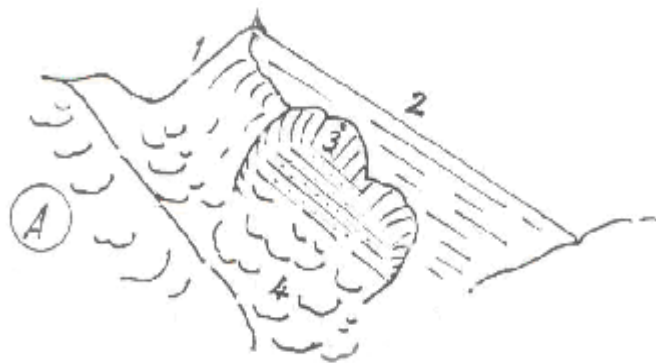
CONCURSUL ȘCOLAR DE GEOGRAFIE, ETAPA NAȚIONALĂ

LUCRARE SCRISĂ LA PROBA PRACTICĂ 21 APRILIE 2003

Clasa a IX-a

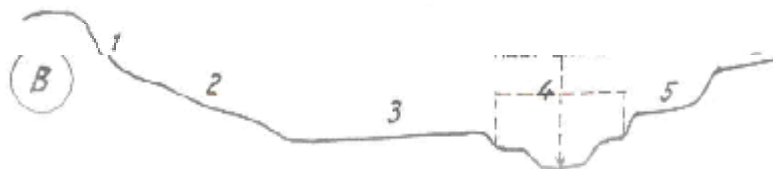
I. Scrieți, pe foaia de concurs, semnificația corespunzătoare a elementelor marcate cu cifrele 1,2,3,4 de pe desenul (A). Caracterizați elementele respective.

(5,5 puncte)




II. Scrieți, pe foaia de concurs, semnificația treptelor de relief marcate pe desen cu cifrele 1,2,3,4,5. Precizați aspectele referitoare la utilizarea terenului de pe treptele de relief din perimetrul localității Valea Cheii (la confluența pârâului Cheia cu pârâul Olănești) (desenul B)

(5 puncte)



III. Precizați specificul proceselor de pe versantul stâng al Oltului, în aval de punctul Malul Alb, reflectate prin desenele de mai jos (C și D)

(4 puncte)



IV. Explicați:

- modul de formare a lacurilor de la Ocnița;
 - procesele geomorfologice observate pe malurile și versanții înconjurători.
- (3 puncte)

V. Comparați albia Oltului situată în amonte și aval de barajul de la Dăești. Precizați asemănările și deosebirile specifice.

(2,5 puncte)

VI. Precizați diferențele de natură structurală în alcatuirea versanților Oltului în amonte și aval de barajul de la Turnu.

(2,5 puncte)